



طلبة 11 أدبي

مطابقة الاختبار



مادة الجغرافيا

اليوم الاختبار كان



المذكرة : 100%

النماذج : 90%



وعسى الله يوفقكم ان شاء الله



١٠٠٠ مذكرة
١٩٠٠ / ١٩٠٠
نموذج الإجابة
اختبارات

العام الدراسي: ٢٠٢٥ / ٢٠٢٦ م
الزمن: ساعتان وربع
عدد الصفحات: ٦

امتحان الفترة الدراسية الثانية
لمقرر مبادئ علم الجغرافيا وعلم الاقتصاد
للسف الحادي عشر/ القسم الأدبي

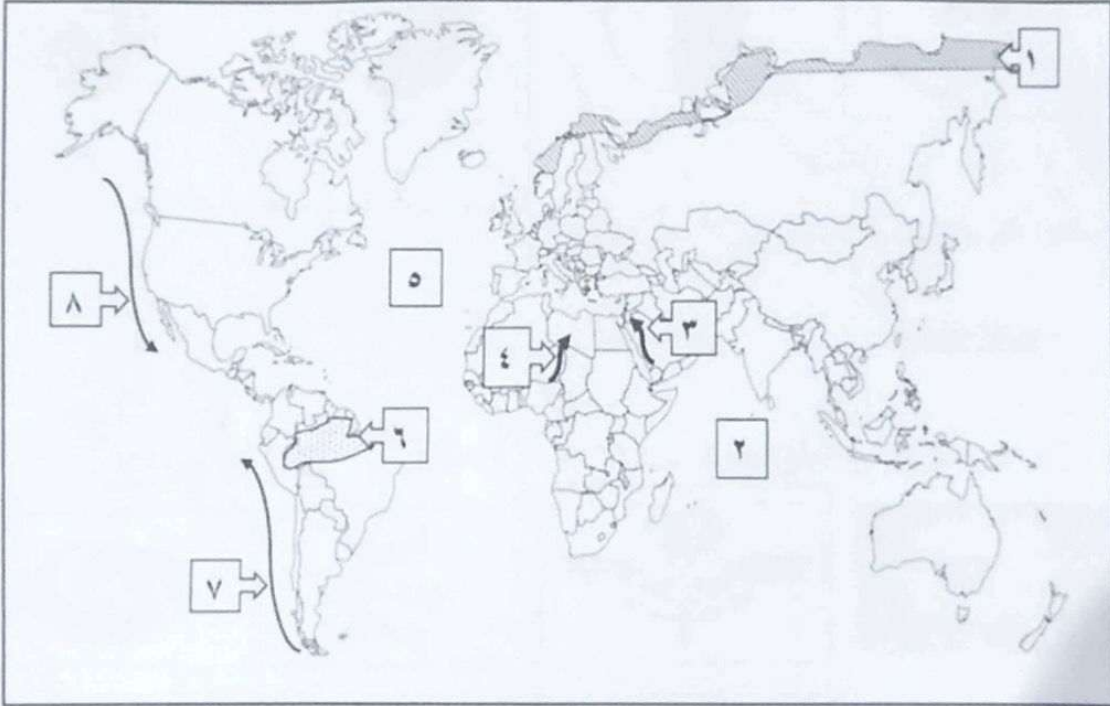


وزارة التربية
Ministry of Education
Kingdom of Saudi Arabia
إدارة التوجيه الفني للاجتماعيات

أجب عن جميع الأسئلة

السؤال الأول الموضوعي يتكون من (أ - ب - ج - د - هـ): ١٧ درجة

(أ) لاحظ خريطة العالم ثم اكتب الرقم الدال على العبارات التالية: ٤ درجات



مذكرة
الخريطة للمجموعة ص ٢٤

ص ٣٦ : ص ٣٨

ص ٣٩

ص ٥٢

+ نموذج ص ٧

٧ - تيار هبولت (بيرو) يمثل على الخريطة الرقم

+ نموذج ص ١٨

٢ - المحيط الهندي يمثل على الخريطة الرقم

٣ - رياح السموم يمثلها على الخريطة الرقم

+ نموذج ص ٧

٦ - إقليم الغابات الحارة الاستوائية يمثلها على الخريطة الرقم



كتول القسم العلمي
بنت تقدر العذرات

وزارة التربية والتعليم

إدارة التوجيه الفني للاجتماعيات

تابع / السؤال الأول الموضوعي:

(ب) ضع خطاً تحت الخيار الصحيح من بين الخيارات التي تلي كل عبارة: ٤ درجات

١- أحد البحار الهامشية التي تتصل بالمحيط الأطلسي: ص ١٩ ~~مذكرة ص ٢~~ ~~مذكرة ص ٢~~



البحر المتوسط

د- البحر المتوسط


ج - البحر الأحمر

ب - بحر جاوه

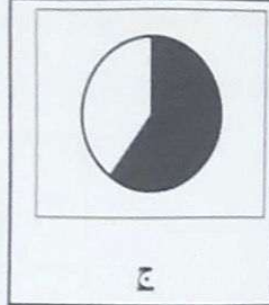
أ- بحر اخطسك

مذكرة ص ١٩


٢- نسبة الغابات الصنوبرية من المساحة الكلية لدولة فنلندا: ص ٦٤




د



ج



ب



أ

٣- القارة التي يقع فيها سهل البمباس: ص ٦٩ ~~مذكرة ص ٢~~

د- أفريقيا

ج - آسيا

ب - أستراليا

أ- أمريكا الجنوبية

مذكرة ص ٢٣ + نموذج ٣ ص ١٧


٤- الشعار الذي يمثل الإدارة العامة للجمارك: ص ١٢٧




د



ج



ب



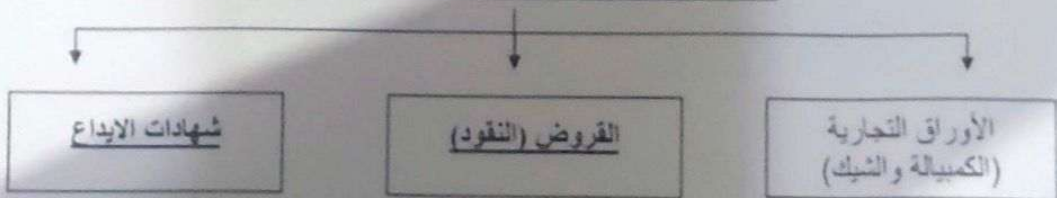
أ

وزارة التربية والتعليم

مذكرة ص ٢٩ + نموذج ٢ ص ١٣

(ج) أكمل المخطط السهمي التالي: درجتان

- الأدوات المالية المتداولة في سوق النقد. ص ١٠٧



السؤال الثاني المقالى يتكون من (أ - ب - ج):

(أ) اقرأ الفقرة التالية ثم أجب عما يليها من أسئلة: ٣ درجات

" هناك عدة تحديات تعيق تطوير وتحسين الاقتصاد الكويتي ورسم مستقبله بالشكل الصحيح، من أهمها أن النفط يمثل عصباً أساسياً للاقتصاد الكويتي إذ يشكل نصيب الصادرات النفطية حوالي ٩٥٪ من إجمالي صادرات الدولة، وهو مورد طبيعي غير متجدد معرض للنضوب مع زيادة الاستهلاك، لذلك أصبح من أهم أولويات الاقتصاد الكويتي البحث عن طرق تنويع مصادر الدخل بعيداً عن النفط، ويكون ذلك من خلال إيجاد المصادر البديلة، والاهتمام بالتنمية البشرية فالبشر هم عماد أي دولة وهم الركيزة الأهم في أي اقتصاد."

- ١- عدد طرق تنويع مصادر الدخل بعيداً عن النفط لدولة الكويت. ص ١٢٨ **مذكرة ص ٣٣ + نموذج ١ ص ٤**
 - إيجاد مصادر بديلة. - التنمية البشرية. - استغلال المقومات الحالية للاقتصاد. **يكتفى بنقطتين درجتان**



٢- مثل في دائرة بيانية نسبة الصادرات النفطية في دولة الكويت. درجة واحدة

مذكرة ص ٣٣ + نموذج ٢ ص ١١
 ٩٥٪

(ب) قارن بين كل مما يلي: ٤ درجات **مذكرة ص ١٧**

أوجه المقارنة	إقليم غابات البحر المتوسط	إقليم غابات الصين
درجة الحرارة ص ٥٩	- اعتدال درجة الحرارة. درجة	- الحرارة ترتفع صيفاً إلى ٢١م وتنخفض شتاءً. درجة
كمية الأمطار ص ٦٠	- تتراوح كمية المطر من ٢٠-٤٠ بوصة. درجة	- تتراوح كمية المطر من ٣٠-٥٠ بوصة. درجة

(ج) علل لما يلي: ٦ درجات

- ١- نشأة التيارات البحرية. ص ٢٣ **مذكرة ص ٤٤ + نموذج ١ ص ٤** **يكتفى بنقطتين درجتان**

- ارتفاع كثافة مياه البحر: تبعاً لارتفاع حرارة المياه أو لارتفاع نسبة الأملاح أو كليهما معاً.
 - الرياح الدائمة: لأن هبوبها المنتظم بسبب تحرك مياه المحيط في اتجاه هبوب هذه الرياح.
 - القوة الناتجة من دوران الأرض حول محورها من الغرب إلى الشرق (قانون فريل).
 - شكل واتجاه السواحل: التي تعترض اتجاه سير التيارات البحرية وتجعلها تأخذ اتجاهات معينة.

- ٢ - اختلاف درجات حرارة الهواء على سطح الأرض. ص ٣٢ **مذكرة ص ٤٤ يكتفى بنقطتين درجتان**

- تنخفض درجة الحرارة كلما بعدنا عن الدائرة الاستوائية شمالاً أو جنوباً. **نموذج ٣ ص ١٦**
 - التوزيع الجغرافي غير المنتظم للمساحات المائية واليابس على سطح الأرض.
 - تقلل الغطاءات النباتية من المدى الحراري اليومي.
 - تأثير التيارات البحرية الدافئة والباردة في تشكيل درجة حرارة الهواء الملامس لأسطحها ومن ثم تؤثر على هواء السواحل التي تمر بها هذه التيارات البحرية.
 - مدى الارتفاع عن سطح الأرض حيث تنخفض درجة الحرارة مع الارتفاع تبعاً لتركز الغازات الثقيلة وبخار الماء والأترية في القسم السفلي من هواء التروبوسفير.
 - الكتل الهوائية الباردة والدافئة التي تعمل على برودة الهواء أو على ارتفاع الحرارة فيه عند تحركها.

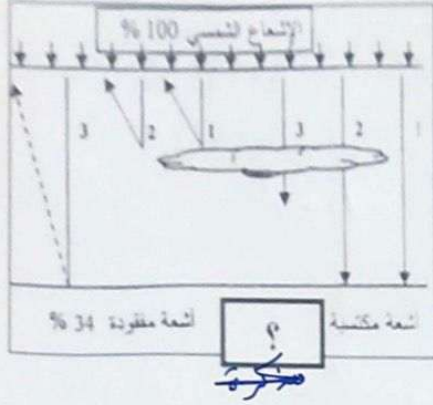
- ٣ - شجرة الأومبو الأرجنتينية أكثر الأشجار تحملاً للظروف القاسية. ص ٧٢ **يكتفى بنقطتين درجتان**

- يمكنها مقاومة الجفاف والإصابة بالآفات الحشرية. - مقاومة العواصف الشديدة ودرجات الحرارة العالية.
 - أخشابها رطبة لدرجة تمنع احتراقها. - إسفنجية تعوق قطعها أو نشرها.

مذكرة ص ٤٤ + نموذج ١ ص ٤

المسائل الثالث المعقالي يتكون من (ا - ب - ج) :

(ا) لاحظ الشكل المقابل ثم اجب عن الأسئلة التالية : ٣ درجات ص ٣١



١- أكمل النسبة الناقصة على الشكل. درجة واحدة

- نسبة الأشعة المكتسبة ٦٦
مذكرة ص ٦ + نموذج ج ١
ص ٣

٢- عدد العوامل التي تؤثر في الإشعاع الشمسي. درجتان - يكتفى بنقطتين

- قوة النشاط الإشعاعي للشمس. **مذكرة ص ٦**

- اختلاف طول المسافة بين الشمس وسطح الأرض. **+ نموذج ج**

- مدى شفافية طبقات الغلاف الجوي. **ص ٥**

- اختلاف عدد ساعات سقوط أشعة الشمس على الأرض.

- مقدار زاوية ميل الأشعة الشمسية على سطح الأرض.

(ب) فرق بين كل مما يلي: ص ٤٥-٤٦ : ٤ درجات

مذكرة ص ٣

مظاهر التكاثف التي تحدث في طبقات الجو العليا	مظاهر التكاثف التي تحدث على سطح الأرض
- السحب - الثلوج - البرد + نموذج ج ص ١١	- الضباب - الندى - الصقيع
درجتان يكتفى بنقطتين	درجتان يكتفى بنقطتين

(ج) عدد اثنين لما يلي: ٦ درجات

١- فوائد الغلاف الجوي على سطح الأرض. ص ٢٩ **مذكرة ص ٦ + نموذج ج ص ٤** درجتان

- يحمي سطح الأرض من تساقط بقايا الشهب والنيازك من الفضاء الخارجي.

- الغلاف الجوي هو سبب الحياة على سطح الأرض لأن الهواء وما فيه من مكونات هو مصدر تكوين السحب

والغيوم وهبوب الرياح وسقوط الأمطار وتكوين الموارد المائية على سطح الأرض.

- أهميته تكمن في وجود غاز الأوكسجين الذي تعتمد عليه كل الكائنات الحية في عملية التنفس.

٢- وظائف البنك المركزي. ص ١٠٨ **مذكرة ص ٩ + نموذج ج ص ٢** درجتان

- بنك الإصدار.

- بنك الحكومة.

- بنك البنوك.

وزارة التوجيه الفني العام للإجتماعيات

التوجيه الفني العام للإجتماعيات

٣- مقومات التبادل التجاري بين الدول. ص ١١٥ **مذكرة ص ٣ + نموذج ج ص ١٦** درجتان

- الفروقات الجغرافية والمناخية في الإنتاج

- التخصص في الإنتاج

- الحاجة إلى المواد الأولية



وزارة التوجيه الفني العام للإجتماعيات

السؤال الرابع المقالى يتكون من (أ - ب - ج):



(أ) لاحظ خريطة قارة أفريقيا الصماء ثم أجب عن الأسئلة التالية: درجات

١- حدد على الخريطة باستخدام الرموز ما يلي:

- الزيتان المجمعة ٣٨٢٧ ص ٢٤ درجة + نموذج ج ١٨ ص ٤
 - تيار موزمبيق باستخدام الرمز
 - حشائش السافانا باستخدام الرمز

٢- عدد أنواع حشائش السافانا ص ٦٧ يكتفى بنقطتين درجتان

- مذكرة ص ٣ + نموذج ج ٣ ص ١٥
 - السافانا الرطبة.
 - السافانا المغلقة.
 - السافانا القصيرة أو المكشوفة.

(ب) اكتب فيما يلي: درجات

١- مميزات الغابات المخروطية (الصنوبرية). ص ٦٥ مذكرة ص ١٩٢١٨ يكتفى بنقطتين درجتان

- تكون لأشجارها السائدة أوراق طويلة رقيقة شبيهة بالإبر.
 - تسمى (الغابات الإبرية الأوراق حاملة المخاريط) لأنها تحمل مخاريط تحتوي على البذور.
 - يطلق عليها (غابات الأخشاب الرخوة) لأن أخشابها أقل صلابة.

٢- الاتفاقيات التجارية الأكثر شيوعا في العالم. ص ١١٩ مذكرة ص ٣١٤ + نموذج ج ٤ ص ٢٢ يكتفى بنقطتين درجتان

- منطقة التجارة الحرة الأوروبية التي أنشئت عام ١٩٥٩ م بين سبع دول أوروبية.
 - اتفاقية التجارة الحرة لشمال أمريكا التي أبرمت في عام ١٩٩٢ م فيما بين المكسيك والولايات المتحدة الأمريكية وكندا.
 - اتفاقيات الاتحاد الجمركي وهي ذاتها منطقة تجارة حرة بحيث يتبنى فيها الأعضاء في هذا الاتحاد سياسة خارجية تجارية موحدة أي فرض تعرفه جمركية موحدة على الدول خارج الاتحاد كالاتحاد الجمركي الخليجي.

٣- دور المشاريع الصغيرة في الاقتصاد المحلي. ص ١٣٨ - ١٣٩ يكتفى بنقطتين درجتان

- مذكرة ص ٣٤ + نموذج ج ١ ص ٥ التربية
 - الحد من البطالة.
 - وجود صناعة بديلة.
 - المساهمة في تعزيز الصادرات.
 - المساهمة في زيادة دخل الأفراد.

(ج) عرّف المفاهيم والمصطلحات التالية: ٣ درجات

- ١- تيارات دفيئة: تتجه من العروض الدنيا الدفينة نحو العروض العليا الباردة. ص ٢٤ مذكرة ص ٥
 ٢- نسيم الجبل: يحدث أثناء الليل عندما يبرد الهواء على سفوح الجبال فيهبط نحو الأودية والأراضي المنخفضة. ص ٤٠ مذكرة ص ١٥٣ + نموذج ج ٣ ص ١٥
 ٣- التسي تسمى: ذبابة أفريقية ذات جناحين، تحمل الحيوان الطفيلي الذي يسبب مرض النوم الإفريقي. ص ٥٧ مذكرة ص ١٥٣ + نموذج ج ٢ ص ٨

انتهت الإجابة.

